

BSTC 2026 Answer Key -2026 Shift-2nd

भाग – अ मानसिक योग्यता

सम्पूर्ण उत्तर कुंजी देखने के लिए यहाँ क्लिक करें

- छः गाँव A, B, C, D, E तथा F हैं। F, D के पश्चिम में 1 कि.मी. दूर है। B, E से 1 कि.मी. पूर्व में है। A, E से 2 कि.मी. उत्तर में है। C, A से 1 कि.मी. पूर्व में है। D, A से 1 कि.मी. दक्षिण में है। कौनसे गाँव एक पंक्ति में हैं?
(A) A, C, B
(B) A, D, E
(C) C, B, F
(D) E, B, D
- निम्नलिखित को एक सार्थक क्रम में व्यवस्थित करें –
(1) ऋण अनुमोदन
(2) संवितरण
(3) आवेदन
(4) सत्यापन
(A) 3, 1, 2, 4
(B) 3, 4, 2, 1
(C) 3, 4, 1, 2
(D) 4, 3, 1, 2
- A, B का भाई है। D, E का भाई है। C, A का पिता है। E, B की पुत्री है, तो D का चाचा है –
(A) A
(B) B
(C) C
(D) E
- दिए गए शब्दों को उस क्रम में व्यवस्थित कीजिए, जिस क्रम में वे शब्दकोष में आते हैं तथा सही क्रम का चयन कीजिए –
(1) Precede
(2) Precision
(3) Precise
(4) Precept
(5) Preach
(6) Prelude
(A) 5, 3, 1, 4, 2, 6
(B) 5, 1, 4, 3, 2, 6
(C) 5, 1, 3, 4, 2, 6
(D) 5, 1, 4, 2, 3, 6
- एक लड़के की ओर इशारा करते हुए रोशन कहता है, "यह लड़का मेरे पिता की इकलौती संतान का बेटा है।" रोशन की पत्नी का उस लड़के से क्या संबंध है?
(A) माता
(B) चाची
(C) बहन
(D) पुत्री
- निम्नलिखित में से किस शब्द की जल छवि समरूप नहीं होगी?
(i) KICK
(ii) CODE
(iii) HIKE
(iv) DISC
(A) (i) और (iv)
(B) केवल (iv)
(C) केवल (ii)
(D) (iii) और (iv)
- A, B, C, D, E, F, G तथा H एक पंक्ति में उत्तर दिशा के सम्मुख खड़े हैं। B, G का पड़ोसी नहीं है। F, G के ठीक दाईं ओर है और E का पड़ोसी है। G एकदम कोने पर नहीं है। A, E के बाईं ओर छठे स्थान पर है। H, C के दाईं ओर छठे स्थान पर है। निम्नलिखित में से कौनसा सही है?
(A) C, A के ठीक बाईं ओर है।

[BSTC की सम्पूर्ण उत्तर कुंजी \(Shift 1 & 2\) देखने के लिए यहाँ क्लिक करें](#)

(B) D, B तथा F का तुरन्त पड़ोसी है।

(C) G, D के ठीक दाईं ओर है।

(D) A और E सबसे अन्त में हैं।

8. पेट्रोल : फॉस्फोरस : रसोई गैस

उपरोक्त में क्या समानता है?

(A) ये ईंधन हैं।

(B) ये अत्यधिक ज्वलनशील हैं।

(C) इन्हें बिना अनुमति के नहीं बेचा जा सकता।

(D) भारत को इनका आयात करना पड़ता है।

9. नीचे दिए गए शब्दों को शब्दकोषानुसार व्यवस्थित करें और बताएं कि दूसरे स्थान पर कौनसा शब्द आएगा?

(A) Pragmatic

(B) Praiseworthy

(C) Precious

(D) Practical

10. एक कॉलोनी में रहने वाले 60 लोगों में से 10 केवल बंगाली बोलते हैं, 5 केवल असमिया बोलते हैं, 10 हिन्दी व उड़ीया दोनों बोलते हैं, 12 मराठी व हिन्दी दोनों बोलते हैं, 13 अंग्रेजी, तमिल व मराठी बोलते हैं, 5 असमिया व हिन्दी दोनों बोलते हैं तथा शेष बंगाली व हिन्दी दोनों बोलते हैं। बंगाली बोलने वालों का मराठी बोलने वालों के साथ अनुपात है -

(A) 15 : 32

(B) 1 : 2

(C) 3 : 4

(D) 3 : 5

11. लता अपने घर से 15 कि.मी. पश्चिम की ओर गई, फिर बाईं ओर मुड़कर 20 कि.मी. चली, वह फिर पूर्व की ओर मुड़ी और 25 कि.मी. चली और अंत में बाईं ओर मुड़कर 20 कि.मी. चली, अब वह अपने घर से कितनी दूर है?

(A) 20 कि.मी.

(B) 10 कि.मी.

(C) 5 कि.मी.

(D) 25 कि.मी.

12. रमा को रानी से ज्यादा नम्बर मिले, रानी को रत्ना से कम नम्बर मिले, रत्ना को पदमा से ज्यादा नम्बर मिले, पदमा को रमा से ज्यादा लेकिन रत्ना से कम नम्बर मिले। सबसे ज्यादा नम्बर किसे मिले?

(A) रमा

(B) रत्ना

(C) पदमा

(D) रानी

13. '?' के स्थान पर आने वाली संख्या ज्ञात कीजिए -

3	370	7
2	224	6
1	730	?

(A) 5

(B) 8

(C) 9

(D) 11

14. एक परीक्षा में बैठने वाले 130 छात्रों में से 62 अंग्रेजी में, 52 गणित में अनुत्तीर्ण हुए, जबकि 24 अंग्रेजी और गणित में अनुत्तीर्ण हुए। अंत में उत्तीर्ण होने वाले छात्रों की संख्या है -

(A) 40

(B) 50

(C) 55

(D) 60

15. बेमेल को पहचानें -

(A) निपुणता

(B) क्षमताएँ

(C) दक्षता

(D) अक्षमता

16. नीचे दी गई अक्षर/संख्या सीरीज में से पता लगाएँ कि बाईं ओर से 5वें अक्षर/संख्या के दाईं ओर 8वें अक्षर/संख्या कौनसा/सी है?

5N6QRMO9BVZMS8D

(A) R

(B) 8

(C) S

(D) 6

17. WHITE का दर्पण प्रतिबिम्ब क्या होगा?

(A) ELIHW

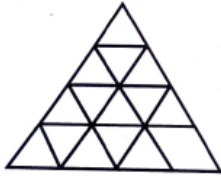
(B) ETIHW

(C) ETIHW

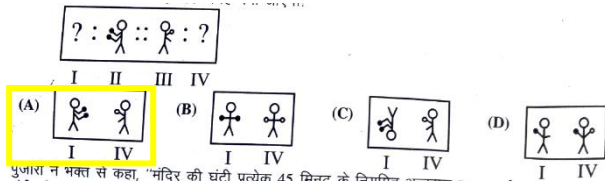
(D) ETIHW

18. नीचे दी गई प्रश्न आकृति में कितनी सीधी रेखाएँ हैं?

- (A) 11
(B) 9
(C) 15
(D) 48



19. निम्नांकित में से प्रश्न चिह्नों की जगह क्या आएगा?



20. पुजारी ने भक्तों से कहा, "मंदिर की घंटी प्रत्येक 45 मिनट के नियमित अंतराल पर बजाई जाती है। पिछली बार घंटी पाँच मिनट पहले बजाई गई थी। अगली बार घंटी प्रातः 7:45 बजे बजाई जाएगी।" पुजारी ने भक्त को यह जानकारी किस समय दी?

- (A) प्रातः 7:40
(B) प्रातः 7:00
(C) प्रातः 6:55
(D) प्रातः 7:05

निम्नलिखित सूचना को पढ़कर प्र. सं. 21-23 के उत्तर दीजिए –

रवि और कुणाल हॉकी और वॉलीबॉल में अच्छे हैं। सचिन और रवि हॉकी और बेसबॉल में अच्छे हैं। गौरव और कुणाल क्रिकेट और वॉलीबॉल में अच्छे हैं। सचिन, गौरव और माइकल फुटबॉल और बेसबॉल में अच्छे हैं।

21. बेसबॉल, क्रिकेट, वॉलीबॉल और फुटबॉल में कौन अच्छा है?

- (A) सचिन
(B) कुणाल
(C) गौरव
(D) रवि

22. बेसबॉल, वॉलीबॉल और हॉकी में कौन अच्छा है?

- (A) सचिन
(B) कुणाल
(C) रवि
(D) गौरव

23. हॉकी, क्रिकेट और वॉलीबॉल में कौन अच्छा है?

- (A) सचिन
(B) कुणाल

24. निम्नलिखित विकल्पों में दी गई संख्याओं में कोई संबंध है।

विषम का चयन कीजिए –

- (A) 3 : 8
(B) 6 : 35
(C) 7 : 50
(D) 1 : 0

25. यदि REASON को 5 लिखा जाता है तथा BELIEVED को 7 लिखा जाता है, तो GOVERNMENT को कैसे कूटबद्ध किया जाएगा?

- (A) 6
(B) 10
(C) 8
(D) 9

26. श्रृंखला को पूरा करें –

48, 24, 72, 36, 108,

- (A) 115
(B) 216
(C) 121
(D) 54

27. यदि 'x' का अर्थ 'जोड़', '-' का अर्थ 'भाग', '÷' का अर्थ 'घटाना' तथा '+' का अर्थ 'गुणा' हो, तो निम्नलिखित में से कौनसा सही है?

- (A) $16 + 5 - 10 \times 4 \div 3 = 9$
(B) $16 - 5 \times 10 \div 4 + 3 = 12$
(C) $16 + 5 \div 10 \times 4 - 3 = 9$
(D) $16 \times 5 \div 10 \div 4 - 3 = 19$

28. एक निश्चित कूट भाषा में –

- (i) 'pit na som' का अर्थ है 'bring me water'
(ii) 'na jo tod' का अर्थ है 'water is life'
(iii) 'tub od pit' का अर्थ है 'give me toy'
(iv) 'jo lin kot' का अर्थ है 'life and death'

उस भाषा में 'is' का अर्थ निम्नलिखित में से कौन दर्शाता है?

- (A) jo
(B) na
(C) tod
(D) lin

29. यदि आग को हवा, हवा को पानी, पानी को बादल और बादल को धुलधुला कहा जाए, तो मछलियाँ कहाँ तैरेंगी?

- (A) हवा
(B) पानी
(C) धुलधुला
(D) बादल

30. एक निश्चित कूट भाषा में यदि 'BOARD' को '54937' और 'WALK' को '2918' लिखा जाता है, तो उसी भाषा में 'DRAWL' को कैसे कूटबद्ध किया जाएगा?

- (A) 73921
(B) 37981
(C) 19372
(D) 73495

31. दिए गए तीन तत्वों के मध्य सही संबंध को प्रदर्शित कीजिए — कीड़े, तितलियाँ, बिल्लियाँ



32. तीन-तीन साल के अंतराल पर पैदा हुए 5 बच्चों की उम्र का योग 50 साल है। सबसे छोटे बच्चे की उम्र क्या है?

- (A) 8 साल
(B) 10 साल
(C) 4 साल
(D) 12 साल

33. निम्नांकित में से कौन-सा वेन आरेख जादूगरों, संगीतकारों और पेशेवरों के मध्य सही संबंध को दर्शाता है?



34. एक दिन में घड़ी की सुईयाँ कितनी बार समकोण पर होती हैं?

- (A) 44
(B) 48
(C) 24
(D) 22

35. मंगलवार को बैठक स्थल पर मैं 08:30 बजे से 15 मिनट पहले पहुँचा। वहाँ पहुँचने पर मैंने पाया कि मैं उस व्यक्ति से आधा घंटा पहले पहुँचा था, जो 40 मिनट देर से आया था। बैठक का निर्धारित समय क्या था?

- (A) 08:00 बजे
(B) 08:05 बजे
(C) 08:15 बजे
(D) 08:45 बजे

36. इंडिया गेट : दिल्ली :: :

- (A) शिकागो : अमेरिका
(B) अल्बानी : न्यूयॉर्क
(C) आगरा : ताजमहल
(D) चंडीगढ़ : रॉक गार्डन

37. एक मीटिंग में, एक शहर का नक्शा इस तरह रखा गया था कि दक्षिण-पूर्व, उत्तर बन जाता है, उत्तर-पूर्व, पश्चिम बन जाता है, तो उसी तरह, उत्तर क्या बनेगा?

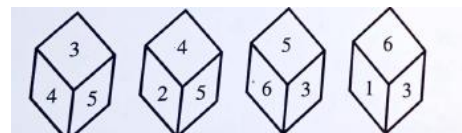
- (A) पूर्व
(B) दक्षिण-पश्चिम
(C) उत्तर-पूर्व
(D) पश्चिम

38. नीचे दी गई तालिका में, कौन-सा अक्षर प्रश्न चिह्न की जगह लेगा?

7	HFG	3
19	OKL	2
8	RAM	4
20	VFL	2
9	O?C	3

- (A) K
(B) L
(C) I
(D) J

39. यदि एक पासे की चार विभिन्न स्थितियाँ नीचे दर्शायी गयी हैं, तो कौन-सा अंक 6 के ठीक विपरीत होगा?



- (A) 1
(B) 5

(C) 2

(D) 4

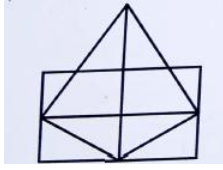
40. दिए गए चित्र में त्रिभुजों की संख्या ज्ञात कीजिए –

(A) 11

(B) 17

(C) 13

(D) 15



41. सही विकल्प का चयन करें –

DESK : 03 :: BOOK :

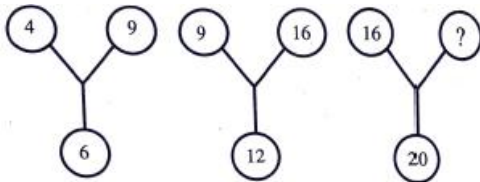
(A) 5

(B) 18

(C) 7

(D) 25

42. दिए गए चित्र में अज्ञात अंक ज्ञात कीजिए –



(A) 60

(B) 40

(C) 50

(D) 25

43. निम्नलिखित में से कौनसा लीप वर्ष नहीं है?

(A) 4800

(B) 1992

(C) 1884

(D) 1900

44. 42 मिनट का 2 घंटों के साथ क्या अनुपात होगा?

(A) 14 : 15

(B) 7 : 20

(C) 3 : 5

(D) 6 : 7

45. वह सही संख्या ज्ञात करें जो प्रश्न चिह्न की जगह लेगी –

TK : 2313 :: JO :

(A) 1317

(B) 298

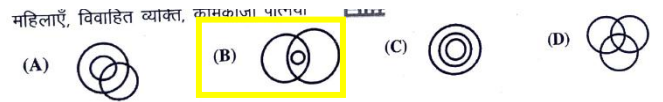
(C) 4529

(D) 2219

46. कम्प्यूटर दक्ष, स्नातक, कामकाजी



47. महिलाएँ, विवाहित व्यक्ति, कामकाजी पत्नियाँ



48. बेमेल को पहचानें –

(A) मछली

(B) मेंढक

(C) मगरमच्छ

(D) कछुआ

49. दिए गए कथन से पता लगाएँ कि कौनसा तर्क मजबूत है?

कथन : क्या रंगीन टेलिविजन पर टैक्स बढ़ाना चाहिए?

तर्क (I) : हाँ, क्योंकि रंगीन टेलिविजन एक लक्जरी वस्तु है और इसे सिर्फ अमीर लोग ही खरीदते हैं।

तर्क (II) : नहीं, टेलिविजन गरीब लोग भी खरीदते हैं।

(A) केवल तर्क (I) मजबूत है।

(B) केवल तर्क (II) मजबूत है।

(C) तर्क (I) और तर्क (II) दोनों मजबूत हैं।

(D) न तो तर्क (I) और न ही तर्क (II) मजबूत है।

50. लड़कों की एक कतार में, अरुण बाईं ओर से 12वें और दाईं

ओर से चौथे स्थान पर है। उस कतार में 28 लड़के होने के लिए कितने और लड़कों को शामिल किया जाना चाहिए?

(A) 12

(B) 13

(C) 14

(D) 30

51. वह एकमात्र रियासत कौनसी थी जहाँ उत्तराधिकारी शुल्क नहीं लिया जाता था?
(A) जयपुर
(B) उदयपुर
(C) बीकानेर
(D) जैसलमेर
52. सुंदा पर्वत का शिलालेख कहाँ स्थित है?
(A) देलवाड़ा (आबू)
(B) चिरवा (उदयपुर)
(C) जसवंतपुरा (जोधपुर)
(D) बिजोलिया (भीलवाड़ा)
53. कर्क रेखा राजस्थान के किन जिलों से होकर गुजरती है?
(A) बाँसवाड़ा - डूंगरपुर
(B) उदयपुर - प्रतापगढ़
(C) सिरोही - उदयपुर
(D) उदयपुर - चित्तौड़गढ़
54. राजस्थान के निम्नलिखित जिलों में से कौनसा शुष्क-सागवान वन का हिस्सा नहीं है?
(A) बाँसवाड़ा
(B) झालावाड़
(C) चित्तौड़गढ़
(D) करौली
55. निम्नलिखित में से किसे 'सरगासूली' भी कहा जाता है?
(A) पटवों की हवेली
(B) सलीम सिंह की हवेली
(C) ईसरलाट
(D) जंतर-मंतर
56. राजस्थान में किस नदी को 'मृत नदी' कहा जाता है?
(A) लूणी
(B) बनास
(C) घघर
(D) चम्बल
57. 'पैलेस ऑन व्हील्स' किससे सम्बन्धित है?
(A) सड़क परिवहन
(B) हवाई पर्यटन
(C) शाही रेल पर्यटन
(D) ऊँट सफारी
58. सर्वप्रथम किस विधानसभा चुनाव में राजस्थान राज्य विधानसभा की सदस्य संख्या 200 सीमांकित की गई?
(A) 1977
(B) 1967
(C) 1980
(D) 1972
59. 'नीला पानी मेला' राजस्थान के किस जिले में आयोजित होता है?
(A) बाँसवाड़ा
(B) डूंगरपुर
(C) प्रतापगढ़
(D) उदयपुर
60. निम्न में से कौनसा स्थान ब्लू पॉटरी के लिए विख्यात है?
(A) जोधपुर
(B) उदयपुर
(C) जयपुर
(D) उदयपुर
61. निम्नलिखित में से कौनसा महल जल दुर्ग की श्रेणी में आता है?
(A) मेहरानगढ़
(B) तारागढ़
(C) जयगढ़
(D) बीकानेर
- नोट : इनमें से कोई नहीं
62. निम्नलिखित में से किस जनजाति का पंचायत मुखिया पालवी कहलाता है?
(A) मीणा
(B) सहरिया
(C) भील
(D) गरासिया
63. राजस्थान राज्य की आर्थिक समीक्षा 2024-25 के अनुसार, सकल राज्य मूल्यवर्धन में औद्योगिक क्षेत्र का योगदान कितना है?
(A) 11.04%
(B) 45.92%

- (C) 26.92%
(D) 27.16%
64. राजस्थान में सड़क घनत्व कितना है?
(A) 80.50 कि.मी./100 वर्ग कि.मी.
(B) 77.20 कि.मी./100 वर्ग कि.मी.
(C) 92.66 कि.मी./100 वर्ग कि.मी.
(D) 82.76 कि.मी./100 वर्ग कि.मी.
65. अरावली पर्वत श्रृंखला किस भूवैज्ञानिक शैल प्रणाली से सम्बन्धित है?
(A) गोंडवाना शैल
(B) दक्कन ट्रैप
(C) प्री-कैम्ब्रियन शैल
(D) जलोढ़ निक्षेप
66. निम्नलिखित में से कौनसा युग्म सुमेलित है?
(A) वीरविनोद – ईसरदास
(B) हाला झाला री कुण्डलियां – श्यामलदास
(C) हमीरायण – भांडऊ व्यास
(D) रुक्मिणी-हरण – नरपति नाल्ह
67. राजस्थान ऊर्जा विकास एजेंसी (रेडा) की स्थापना कब की गई थी?
(A) 2002
(B) 1985
(C) 2010
(D) 1999
68. नथमल की हवेली और पटवों की हवेली कहाँ स्थित हैं?
(A) जैसलमेर
(B) करौली
(C) फतेहपुर शेखावटी
(D) लक्ष्मणगढ़
69. राजस्थान राज्य सड़क परिवहन निगम की स्थापना किस वर्ष हुई?
(A) 1956
(B) 1964
(C) 1972
(D) 1980
70. गोस्वनाथ सम्प्रदाय की प्रमुख शाखा 'बैराग पंथ' का राजस्थान में केंद्र कहाँ रहा है?
(A) राताडूंगा (पुष्कर)
(B) संगिया जी (जैसलमेर)
(C) देशनोक (बीकानेर)
(D) मथौर (जोधपुर)
71. राजस्थान में अभी तक अनुच्छेद 356 का प्रयोग कितनी बार किया गया है?
(A) एक बार
(B) दो बार
(C) तीन बार
(D) चार बार
72. निम्नलिखित में से कौनसा सुमेलित नहीं है?
(A) लॉन्गेवाला वॉर मेमोरियल – जैसलमेर
(B) महाराव माधो सिंह संग्रहालय – नागौर
(C) जसवंत थड़ा – जोधपुर
(D) आम्रपाली संग्रहालय – जयपुर
73. राजस्थान में निम्नलिखित में से किस कस्बे का विकास और रखरखाव हिंदुस्तान कॉपर लिमिटेड द्वारा किया जाता है?
(A) राजनगर
(B) खेतड़ी
(C) हुरड़ा
(D) दरीबा (चित्तौड़)
74. राज्य पुनर्गठन अधिनियम, 1956 के अंतर्गत निम्नलिखित में से राजस्थान का कौनसा भाग मध्य भारत/मध्य प्रदेश को दिया गया?
(A) सुनेल टप्पा
(B) मानपुर
(C) सिरोंज
(D) स्वरूपगंज
75. प्रसिद्ध लोक वाद्य रावणहत्था है –
(A) वायु वाद्य
(B) तंत्री वाद्य
(C) ताल वाद्य
(D) धातु (पीतल) वाद्य
76. 1952 में राजस्थान राज्य विधानसभा के पहले चुनावों में कुल निर्वाचन क्षेत्र कितने थे?

- (A) 140
(B) 160
(C) 120
(D) 167
77. राजस्थान साहित्य अकादमी कहाँ स्थित है?
(A) जयपुर
(B) जोधपुर
(C) उदयपुर
(D) बीकानेर
78. 'राजपूत काल' सामान्यतः किस अवधि को संदर्भित करता है?
(A) 6वीं - 12वीं शताब्दी
(B) 1 - 5वीं शताब्दी
(C) 13वीं - 18वीं शताब्दी
(D) 19वीं शताब्दी
79. 'बम नृत्य' कहाँ का प्रसिद्ध है?
(A) जालौर - सिरोही
(B) बाँसवाड़ा - डूंगरपुर
(C) अलवर - भरतपुर
(D) बीकानेर - जोधपुर
80. छीतर महल का दूसरा नाम क्या है?
(A) हवा महल
(B) उम्मेद महल
(C) तख्तड़ी महल
(D) चिड़ासर महल
81. गवरी का उद्भव किस कथा से माना जाता है?
(A) शिव-भस्मासुर की कथा से
(B) देव-असुर संग्राम की कथा से
(C) रामायण की कथा से
(D) महाभारत की कथा से
82. निम्नलिखित में से कौनसा किला राजस्थान की उत्तरी सीमा का प्रहरी कहलाता है?
(A) लोहागढ़
(B) करौली का राजमहल
(C) कुम्भलगढ़ का किला
(D) भटनेर का किला
83. वर्तमान राजस्थान विधानसभा में 26 जनवरी, 2026 को यथानुरूप निम्नलिखित में से किस राजनीतिक दल का केवल एक सदस्य है?
(A) भारतीय आदिवासी पार्टी
(B) बहुजन समाज पार्टी
(C) राष्ट्रीय लोकदल
(D) राष्ट्रीय लोकतांत्रिक पार्टी
84. निम्नलिखित में से कौनसा जिला 'लूनी बेसिन' का हिस्सा नहीं है?
(A) जोधपुर
(B) पाली
(C) डीडवाना
(D) जालौर
85. निम्नलिखित पर विचार कीजिए –
(I) फता की हवेली
(II) जैमल जी तालाब
(III) मीरा बाई का मंदिर
(IV) गौरा-बादल महल
उपर्युक्त सभी आपको निम्नलिखित में से किस दुर्ग में देखने को मिलेंगे?
(A) चित्तौड़ का किला
(B) आमेर का किला
(C) कुम्भलगढ़
(D) मेहरानगढ़
86. 'कोतवाल' का पद सम्बन्धित था –
(A) शिक्षा से
(B) नगर प्रशासन एवं कानून व्यवस्था से
(C) कृषि से
(D) व्यापार से
87. रणकपुर के प्रसिद्ध चौमुखा मंदिर का शिल्पी कौन था?
(A) हरचंद पोधार
(B) देपाक
(C) तोला राम
(D) राव चन्द्रसेन
88. राजस्थान का वह शहर कौनसा है, जहाँ स्वतंत्रता से पूर्व हवाई अड्डा था?
(A) जयपुर

- (B) अजमेर
(C) जोधपुर
(D) गाड़रा रोड
89. निम्नलिखित में से किस शासक ने भरतपुर की स्थापना की थी?
(A) बदनसिंह
(B) सूरजमल
(C) भारमल
(D) अभय सिंह
90. खालसा, विरक्त, उतराड़े, खाकी तथा नागा – ये किस सम्प्रदाय या पंथ की शाखाएँ हैं?
(A) सूफी सम्प्रदाय
(B) विश्रोई सम्प्रदाय
(C) दादू पंथ
(D) कबीर पंथ
91. बिजोलिया आन्दोलन मुख्यतः किसके विरुद्ध था?
(A) ब्रिटिश सेना
(B) जागीरदारों द्वारा लगाए गए भारी कर
(C) ब्रिटिश नीति
(D) शिक्षा सुधार
92. निम्नलिखित में से किस युद्ध में बूंदी का शासक शत्रुशाल हाड़ा मारा गया था?
(A) बैराठ की लड़ाई
(B) खानवा की लड़ाई
(C) दिवेर की लड़ाई
(D) धरमत की लड़ाई
- सही उत्तर : दिए गए विकल्पों में नहीं – समूगढ़ की लड़ाई
93. राजस्थान की सर्वोच्च चोटी 'गुरु शिखर' कहाँ स्थित है?
(A) जैसलमेर
(B) माउंट आबू
(C) जयपुर
(D) उदयपुर
94. स्थापना के दृष्टिकोण से निम्नलिखित में से सबसे प्राचीन शहर कौनसा है?
(A) टोंक
(B) डूंगरपुर
(C) जोधपुर
(D) जैसलमेर
95. 'डिंगल' और 'पिंगल' किससे सम्बन्धित हैं?
(A) चित्रकला शैलियाँ
(B) लोकनृत्य
(C) साहित्यिक परम्पराएँ
(D) वाद्य यंत्र
96. निम्नलिखित में से कौनसा युग सुमेलित नहीं है?
(A) दाउदी बोहरा उर्स – गलियाकोट
(B) घोटिया अम्बा का मेला – बाँसवाड़ा
(C) करणी माता का मेला – देशनोक
(D) दधिमती माता का मेला – नाथद्वारा
97. ब्रिटिश शासन काल के दौरान राजस्थान की वह पहली रियासत कौनसी थी, जिसने कन्या वध को गैर-कानूनी घोषित किया था?
(A) कोटा
(B) उदयपुर
(C) जोधपुर
(D) बीकानेर
98. 'गोल्डन ट्रायंगल' में कौन-कौनसे शहर सम्मिलित हैं?
(A) जयपुर-जोधपुर-उदयपुर
(B) दिल्ली-आगरा-जयपुर
(C) जैसलमेर-बीकानेर-अजमेर
(D) कोटा-बूँदी-चित्तौड़गढ़
99. निम्नलिखित में से किस जनजाति के घरों के समूह को शहरोल' कहा जाता है?
(A) मीणा
(B) भील
(C) सहरिया
(D) गरासिया
100. राजस्थान को वर्तमान नाम कब मिला?
(A) 1947
(B) 1948
(C) 1949
(D) 1966

[सम्पूर्ण उत्तर कुंजी देखने के लिए यहाँ क्लिक करें](#)

[BSTC की सम्पूर्ण उत्तर कुंजी \(Shift 1 & 2\) देखने के लिए यहाँ क्लिक करें](#)

[BSTC की सम्पूर्ण उत्तर कुंजी \(Shift 1 & 2\) देखने के लिए यंहा क्लिक करें](#)